


AÇIKLAMA

1. Bu kitapçıkta sırasıyla **Türk Dili ve Edebiyatı - Sosyal Bilimler - 1 Testi, Sosyal Bilimler - 2 Testi, Matematik Testi** ve **Fen Bilimleri Testi** bulunmaktadır.
2. **Bu testler için verilen toplam cevaplama süresi 180 dakikadır (3 saat).**
3. Bu kitapçıkta testlerde yer alan her sorunun sadece bir doğru cevabı vardır. Bir soru için birden çok cevap yeri işaretlenmişse o soru yanlış cevaplanmış sayılacaktır.
4. İşaretlediğiniz bir cevabı değiştirmek istediğinizde, silme işlemini çok iyi yapmanız gerektiğini unutmayınız.
5. **Bu testler puanlanırken her testteki doğru cevaplarınızın sayısından yanlış cevaplarınızın sayısının dörtte biri çıkarılacak ve kalan sayı o bölümle ilgili ham puanınız olacaktır.**
6. Cevaplamaya istediğiniz sorudan başlayabilirsiniz. Bir soru ile ilgili cevabınızı, cevap kâğıdında o soru için ayrılmış olan yere işaretlemeyi unutmayınız.



BİLGİ SARMAL

1. Bu testte sırasıyla, Türk Dili ve Edebiyatı (1-24), Tarih-1 (25-34), Coğrafya-1 (35-40) alanlarına ait toplam 40 soru vardır.

2. Cevaplarınızı, cevap kâğıdının Türk Dili ve Edebiyatı-Sosyal Bilimler-1 Testi için ayrılan kısmına işaretleyiniz.

1. Yazdığım şiiri, hiçbir zaman nereye gideceği konusunda zorlamadım. Belki şiirin mimarisi değişti. Daha basit bir söyleyişe kaydığım da söylendi. Gençken şiiri daha farklı bir perspektiften yazıyorum belki. Nasıl söyleyeceğim, ne söylediğimin önünde yer alıyordu.

Bu parçada altı çizili sözden hareketle yazarla ilgili aşağıdaki yargılardan hangisine varılabilir?

- A) Şiirin tanımının olmadığını düşünmektedir.
B) Üslup kaygısı yaşamıştır.
C) Konu seçiminde her zaman titiz davranmıştır.
D) Gençlik şiirlerini başarısız bulmaktadır.
E) Farklı temalar üzerine yazmayı tercih etmektedir.

2. Pil bataryasına kadar tamamı Türk mühendisleri tarafından geliştirilen SOM Füzesi'nin menzili 200 kilometreye ulaşır; uçaktan, karadan ve denizden atış imkânı olan "SOM Füzesi"nin menzilini 500 kilometreye çıkarmak için çalışmalar devam ediyor.

- I. Füzenin üretiminde birden fazla ülkenin katkısı vardır.
II. Türkiye savaş sanayisinde öncü bir ülkedir.
III. Füze tamamıyla yerli üretilmiştir.
IV. SOM Füzesi'nin gelişimi için hâlâ zaman ve emek harcanmaktadır.

Yukarıdaki cümleden kesin olarak çıkarılabilecek yargılar numaralanmış cümlelerden hangilerinde verilmiştir?

- A) I. ve II. B) II. ve III. C) II. ve IV.
D) III. ve IV. E) I. ve IV

3. Peyami Safa'nın yazar kimliğini anlamak için mutlaka *Matmazel Noraliya'nın Koltuğu* ve *Yalnızız* –evet özellikle *Yalnızız*– okunmalı ki yazarın üslubu, edebî duruşu anlaşılabilir. *Yalnızız*, varoluşçu bir duruşa sahiptir ve *Tutunamayanlar* gibi, *Kürk Mantolu Madonna* ya da *Aylak Adam* gibi zamanının ötesinde bir eserdir. Uğruna başlı başına bir roman yazılmayı fazlasıyla hak eder.

Bu parçanın anlatımıyla ilgili aşağıdakilerden hangisi söylenemez?

- A) Öznellik söz konusudur.
B) Karşılaştırma yapılmıştır.
C) Öneriye yer verilmiştir.
D) Amaç cümlesine yer verilmiştir.
E) Tanık göstermeden yararlanılmıştır.

4. I. Kosikowski de Türk ve Moğolların atalarının oluşturduğu halkların Asya'dan Avrupa'ya göçleri sırasında keçi sütünden fermente gıda yapabildiklerini ileri sürerek bu görüşü desteklemektedir.

- II. Herodot, Hipokrat ve Strabon ise, ilk peynirin İskit Tükleri tarafından kısrak sütünden ve muhtemelen ekşitme yoluyla yapıldığını bildirmektedirler.

- III. Çok eski tarihlerden beri kullanılmasına karşın peynirin ilk kimler tarafından nerede ve nasıl yapıldığı kesin olarak bilinmemektedir.

- IV. R.W. Menges, ilk peynirin bir Arap gezginin, koyun midesinden yapılmış tulum içinde taşıdığı sütünün tesadüfen pıhtılaşması ile bir rastlantı sonucu elde edildiğini söylemektedir.

- V. Birçok rivayet ve yakıştırmaya rağmen henüz tam açıklığa kavuşturulmamış bu konuda farklı görüşler bulunmaktadır.

Yukarıda numaralanmış cümlelerle anlamlı bir paragraf oluşturulmak istenirse ilk cümle aşağıdakilerden hangisi olur?

- A) I B) II C) III D) IV E) V

5.

I

Hey göklere duman durmuş dağlar hey
Değirmenin üstü her gün yel olmaz
Dinle ağa dinle paşa, dinle bey
Sen söylersin o susar mı bel olmaz

II

Kafesli evlerde ağlar çocuklar
Odalarda akşam olurken henüz
O zaman gözümün önünde parlar
Buruşuk buruşuk, ağlayan bir yüz

Aşağıdakilerden hangisi, numaralanmış bu dördlüklerin ortak özelliklerinden biri değildir?

- A) Hece vezniyle yazılması
- B) Redife yer verilmesi
- C) Yalın bir söyleyiş tercih edilmesi
- D) Çapraz uyak örgüsü kullanılması
- E) Yinelemelere yer verilmesi

6.

– Beni gerçekten sevmiş olsaydın, bu Allah'ın dağına getirmezdin. Şuraya bak; toz toprak, tezek kokusu... Hıh... Şirinyurt'muş!...

– Ama İstanbul'da hiç böyle konuşmuyordun. Beni yüreklendiriyor, destekliyordun. Hatırlasana... Kuzular, çiçekler, dere kenarı, alabalık...

– Ne bileyim ben. Doğaya dönmek istemiştım. Doğa dedikse adam gibi bir doğa. Burada gölge veren bir ağaç bile yok. Hıh... Alabalıkmış. Ne balığı be...

– Köylüler öyle dedi bebeğim. O dereye alabalık var dediler.

– Murat sus lütfen. Lütfen uzatma. Çıldıracağı yoksa... Şuradan bir uzaklaşabilirsek...

Erkeğin elinde bir bavul, kızın kolunda hasır örme bir çanta vardı. Yazlık kıyafetleriyle birbirlerine yakışıyorlardı. Bir de bebekleri olsa uzaktan mutlu bir aile fotoğrafı olarak görüleceklerdi.

Ama mutluluk fotoğrafa yansır mı acaba? Fotoğraf dediğin neyi gösterir? Fotoğraf dediğin gerçeği gösterir.

Gerçek şu:

Delikanlı, öğretmen olup taşraya tayin edilmiş. Kızla birbirlerini sevip evlenmişler. Kırmızı kiremitli, bacasından beyaz dumanlar tüten bir mutlu yuva hayal etmişler. Oğlan bu hayali süslemiş.

Bu metinle ilgili

- I. Çözümleme ve iç monolog teknikleri kullanılmıştır.
- II. Yazar, eserin kurmaca olduğunu hissettirmiştir.
- III. Yazar, okuyucuyla doğrudan iletişime geçmiştir.
- IV. Geriye dönüş ile özetleme tekniğinden yararlanılmıştır.

hangileri söylenebilir?

- A) I ve III
- B) I ve IV
- C) II ve III
- D) I, II ve III
- E) II, III ve IV

7. Aşağıdakilerin hangisinde açıklamayla yay araç içinde verilen kavram birbirine uymamaktadır?

- A) Tiyatroda eserden önce gösterilen müzikli ve danslı oyun (Revü)
- B) Ana bir olaya bağlı kalınarak doğaçlama olarak oynanan tiyatro (Tuluat)
- C) Toplumsal aksaklıklara yer veren kaba halk komedisi (Vodvil)
- D) Hristiyanlık mucizelerinin anlatıldığı kilise oyunları (Feeri)
- E) Bütün söz, hareket ve jestleri musikiyle beselenmiş ve orkestra şefinin idaresine verilmiş dram ve trajediler (Opera)

8. Ne sen,

Ne ben,

Ne de hüsnünde toplanan bu mesâ,

Ne de âlâm-ı fikre bir mersâ

Olan bu mâi deniz,

Melâli anlamayan nesle âşinâ değiliz.

Bu dizeler üslup ve konu yönünden incelendiğinde aşağıdaki akımların hangisinin etkisiyle yazıldığı söylenebilir?

- A) Kübizm
- B) Realizm
- C) Sembolizm
- D) Fütürizm
- E) Dadaizm

9.

	Destan	Ulus	Olay
I.	----	Saka	Türk-İran Savaşı
II.	Ergenekon	----	Türklerin bir dağa sığınmaları, birlik kurmaları
III.	Göç	Uygur	----

Yukarıda tabloda boş bırakılan yerlere aşağıdakilerin hangisinde verilenler sırasıyla getirilmelidir?

- A) Şu – Altay Türkleri – Uygur hakanının kızlarının Tanrı'yla evlendirmesi
- B) Alp Er Tunga – Köktürkler – Türklerin Tanrı tarafından cezalandırılması
- C) Oğuz Kağan – Hun – Evrenin yaratılışı
- D) Alp Er Tunga – Altay Türkleri – Hükümdarın doğuşu ve kahramanlıkları
- E) Danişment Gazi Destanı – Köktürkler – Anadolu'nun fethi

10. Aşağıdakilerin hangisinde bir bilgi yanlışı vardır?

- A) Sav, sagu, koşuk gibi sözlü dönem ürünlerinin ilk örnekleri *Divanü Lügati't Türk*'te yer alır.
- B) *Kutadgu Bilig*, sembolik bir mesnevi olmanın yanında ilk siyasetnâmemiz de sayılır.
- C) *Atabetü'l Hakayık*'ta ayet ve hadisler ile İslamiyet tanıtılmıştır; eser, ahlak ve öğüt kitabıdır.
- D) *Muhakemetü'l Lügateyn* adlı yapıtta Ali Şir Nevaî Türkçe ile Arapçayı kıyaslamıştır.
- E) Tasavvufî Türk edebiyatının ilk ürünü olan *Divan-ı Hikmet* koşma nazım biçimi ile hece ölçüsüyle yazılmıştır.

11. Bütün yaratılmışlarda beden bulmuş ruh kuşlarının, Hüdhüd adlı ermiş kuşun yol göstermesiyle Simurg denen efsanevi kuşla temsil edilen Allah'ı arayışları anlatılan eserde, kuşlar Simurg'a ulaşmak için asırlarca uçar; içlerinden otuz kuş mutlak vücuda ulaşır ve aradıkları Simurg'un kendileri olduğu gerçeğini anlarlar.

Yukarıda bahsedilen eser ve yazarı aşağıdakilerin hangisinde verilmiştir?

- A) Şeyhi – *Harname*
 B) Gülşehri – *Mantıku't Tayr*
 C) Fuzuli – *Beng ü Bade*
 D) Şeyh Galip – *Hüsni ü Aşk*
 E) Âşık Paşa – *Garibname*

12. I. Düzyazılardan oluşan eserlerin adıdır.
 II. Siyasi görevlerle gönderilen elçilerin gittikleri yerlerle ilgili olarak yazdıkları eserlerdir.
 III. Düzyazıda redif ve uyak kullanılmasıdır.
 IV. Eğlence ve içki meclislerini anlatan eserlerdir.
 V. Şehirlerin güzelliklerinden söz eden eserlerdir.

Divan edebiyatı ile ilgili aşağıdaki terimlerden hangisinin tanımı yukarıda verilmemiştir?

- A) Şehrengiz B) Siyasetname C) Sakiname
 D) Seci E) Münşeât

13. "Sekiz Cennet" anlamına gelen eser, Anadolu'da Osmanlı Türkçesiyle yazılan ilk tezkiredir. Eserin yazarı, şiir söyleyen herkesi kadrosuna almamış, devirlerin gerçek şairlerini ortaya çıkarmak amacıyla bir eleme yapmıştır.

Yukarıda özellikleri verilen eser ve yazarı aşağıdakilerden hangisidir?

- A) Ali Şir Nevai – *Mecalisü'n Nefais*
 B) Sehi Bey – *Heşt Behişt*
 C) Latifi – *Risale-i Evsaf-ı İstanbul*
 D) Âşık Paşa – *Meşairü'ş- Şuara*
 E) Sinan Paşa – *Tazarrunname*

14. I. *Dede Korkut Hikâyeleri*'nde nazım ve nesir iç içe yer almaktadır.
 II. *Divan-ı Hikmet*, Türk kültürünün Orta Asya sahasında İslamiyet'in kabulüyle başlayan değişiminin ve yeniden yapılanmasının ilk ürünlerindedir.
 III. Türkçenin başarılı örneklerinden olan *Mantıku't Tayr* ile *Felelname*, Gülşehri'nin önemli eserleridir.
 IV. Pir Sultan Abdal, sade dille yazdığı halk şiiri geleneklerine uygun nefesleri ile tanınır.
 V. *Leyla ile Mecnun*, *Su Kasidesi*, *Şikâyetname* gibi eserler, Fuzuli'nin nazım alanındaki önemli yapıtlarıdır.

Numaralanmış cümlelerin hangisinde bilgi yanlışlığı vardır?

- A) I. B) II. C) III. D) IV. E) V.

15. Anadolu'nun neresinde doğmuş, ne iş görmüş, kimlerle görüşmüş olursa olsun Ahmet Yesevi ile başlayan halk tasavvuf şiirinin Türk dili ile eser veren büyük şairidir ----. Tamamiyle didaktik bir eser olan ---- adlı eserde şair, ruh, nefis, öfke, sabır, gıybet, kin gibi insanlık hâllerinden bahsedip bunlardan kurtulmanın yollarını anlatmıştır.

Bu parçada boş bırakılan yerlere aşağıdakilerden hangisi sırasıyla getirilmelidir?

- A) Ahmet Fakih – *Çarhname*
- B) Fuzulî – *Beng ü Bade*
- C) Yunus Emre – *Risaletü'n Nushiyye*
- D) Mevlana – *Mesnevi*
- E) Yusuf Has Hacip – *Kutadgu Bilig*

16. Batı etkisinde gelişen Türk edebiyatının ilk dönemlerinde ve özellikle Millî Edebiyat Dönemi'nde divan şiiriyle ilgili oldukça olumsuz eleştiri ve değerlendirmeler yapılmıştır. Bu olumsuz eleştirilere rağmen -Cumhuriyet dönemi sanatçıları da dâhil olmak üzere- her dönem bazı sanatçılar divan şiirine övgü ve özlemlerini dile getirmiştir. Hatta bu övgü ve özlem bu sanatçıların dizelerine de yansımıştır.

Aşağıdaki dizelerin hangisi bu metinde anlatılan örnek gösterilemez?

- A) Artık ne rubai ne semai kaldı!
Sanatta bir avare tedâi kaldı!
Her cephesi mamur şiirden bugüne
Mazbût iki üç kalem fedâi kaldı
- B) Çoban anlar, sofi anlar, beğ anlar.
Yaşlıda, çocukta tepreşir kanlar.
Şair budur işte beyler bayanlar
Ötekiler taşa çalsın rübabı.
- C) Bülbüllerin sesinde o şen beste kalmamış
Mevlâna perdesinde karar kılmıyor kamış,
Birkaç yabancı şarkı ve birkaç yabancı iz;
Yıllarca terk edildi asıl kendi şi'rimiz...
- D) Birkaç sokak ve birkaç içinden yıkık çatı
Ey neslimin dehâsı ve ey şanlı san'atı!
Artık uyan yeter bu sefalet, bu vesvese
Hasret kulaklarım seneler var ki bir sese...
- E) Eslâf kapıldıkça güzelden güzele
Fer vermiş o neşveyle gazelden gazele
Sönmez seher-i haşre kadar şi'r-i kadîm
Bir meş'aledir devredilir elden ele

17. Avrupai Türk edebiyatının kurucuları olarak kabul edilen ----,----,---- birer sanatkar olmaktan çok eski edebiyatı yıkmak, yerine inkılapçı bir edebiyat getirmek, halka halk diliyle hitap etmek, edebiyatı ve yeni fikirleri büyük bir buhran içinde olan millete tanıtmak, hürriyet aşkını anlatmak isteyen birer idealist olarak çalışmışlardır.

Bu parçadaki boşluklara aşağıdakilerden hangisi sırasıyla getirilmelidir?

- A) Tefik Fikret – Cenap Şehabettin – Mehmet Rauf
- B) Namık Kemal – Ziya Paşa – Şinasi
- C) Sadullah Paşa – Şemsettin Sami – Ahmet Mithat Efendi
- D) Şinasi – Sami Paşazade Sezai – Nabizade Nazım
- E) Halit Ziya Uşaklıgil – Namık Kemal – Mehmet Rauf

18. Aşağıda verilen bilgilerden hangisi yanlıştır?

- A) İnci Aral'ın *Ölü Erkek Kuşlar* adlı romanında, yaşadıkları ülkenin kültürel ve siyasi olaylarıyla yakından ilgilenen Ayhan, Suna ve Onur arasında yaşanan aşk üçgeni anlatılmıştır.
- B) Bahaeddin Özkıışı, *Sokakta* romanında, manevi değerleri hiçe sayan materyalizmin, ülkeyi istilasını anlatmıştır.
- C) Ahmet Hamdi Tanpınar, *Sahnenin Dışındakiler* adlı romanında Hayri İrdal'ın bakış açısıyla İstibdat, II. Meşrutiyet, I. Dünya Savaşı ve Cumhuriyet Dönemi insanların zaman içindeki bocalayışını anlatmıştır.
- D) *Dağın Öte Yüzü* üçlemesinin ilki olan *Ortadirek'te Yaşar Kemal*, Çukurova insanının yaşam mücadelesini anlatmıştır.
- E) Kemal Tahir, *Kurt Kanunu* romanında Atatürk'e düzenlenen İzmir Suikastı'nı anlatmıştır.

19. Türk milletinin Kurtuluş Savaşı sırasında yaşadığı o zorlu günleri, kendisi sadece yaşamakla kalmayarak aynı zamanda kalemiyle de tespit eden ve sonraki nesillere de bütün canlılığıyla aktarabilen ----, ---- İzmir'in işgalinden Sakarya Zaferi'ne kadar geçen devreyi içine alır.Yunanların işgal sırasındaki vahşeti, Sultanahmet Mitingi, İstanbul'un işgali, Anadolu'ya geçiş, isyanlar, Sakarya Meydan Savaşı anlatılan tarihî olaylardır.

Yukarıda boş bırakılan yere aşağıdakilerden hangisi getirilebilir?

- A) Attila İlhan – *Dersaadette Sabah Ezanları'nda*
- B) Halide Edip Adivar – *Ateşten Gömlek'te*
- C) Yakup Kadri Karaosmanoğlu – *Yaban'da*
- D) Kemal Tahir – *Devlet Ana'da*
- E) Reşat Nuri Güntekin – *Çalıkuşu'nda*

20. Her yıl küçük bir ciltte çıkardığı kitaplarda toplumun her kesiminde bir teselli sunmaya devam eden ----, Anadolu insanının derinliğinin peşine düşerek aynı derdin farklı yansımalarını ve farklı yaşantılar üzerindeki etkisini güçlü bir modern çağ eleştirisiyle birlikte yansıtmayı, toplumla sağlam köprüler kurarak Türkiye topraklarının hikâyesini kaleme alması yönleriyle 2016 yılı Cumhurbaşkanlığı Kültür ve Sanat Büyük Ödülü'nü almıştır.Yokuşa Akan Sular, *Mavi Kuş*, *Bu Böyledir* önemli eserleridir.

Bu parçada boş bırakılan yere aşağıdaki sanatçılardan hangisi getirilmelidir?

- A) Mustafa Kutlu
- B) Hilmi Yavuz
- C) İnci Aral
- D) Nazlı Eray
- E) Selim İleri

21. Yazınımızda 1950-1970 yılları arasındaki en tartışmalı konulardan biri, Köy Enstitüsü kökenli yazarların gerçekçi bir anlayışla kaleme aldıkları romanlardan oluşan köy edebiyatıdır. Genellikle köylülerin ekonomik ve sosyal sorunlarından bahseden bu yapıtlar, kalıplaşmış öğeleri çok fazla içerdikleri için eleştirilmiştir. Dolayısıyla, anlatıları köy konusuna odaklanan yazarlar, köy edebiyatçısı oldukları gerekçesiyle edebî açıdan yeterince değerlendirilmemişlerdir. Bunlardan biri de *Can Şenliği*, *Çelo*, *Dik Bayır* ve *Yılkı Atı* gibi yapıtların yazarı olan ----'dir.

Bu parçanın sonuna aşağıdakilerden hangisi getirilmelidir?

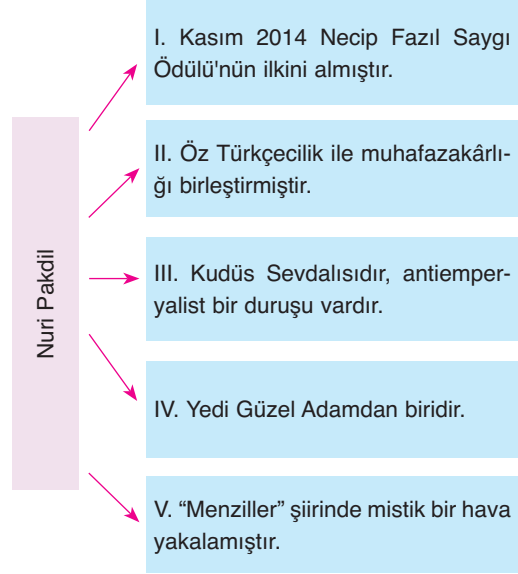
- A) Kemal Bilbaşar
- B) Talip Apaydın
- C) Mahmut Makal
- D) Abbas Sayar
- E) Halikarnas Balıkcısı

22. Eserlerinde Malazgirt Zaferi'nden başlayarak İstanbul'un fethine kadar olan Türk tarihini konu alan Mustafa Necati Sepetçioğlu, Türkiye'de yaşanan toplumsal değişimi ve bunun sonuçlarını eserlerinde işlemiştir. Nehir roman özelliği gösteren tarihî romanları bir döneme ışık tutmuş ve çok sevilmiştir.

Aşağıdaki eserlerden hangisi bu parçada verilen sanatçıya ait değildir?

- A) *Kilit*
- B) *Karanlıkta Mum Işığı*
- C) *Dikmen Yıldızı*
- D) *Sabır Ağacı*
- E) *Kutsal Mahpus*

23.



"Nuri Pakdil'in anlatıldığı yukarıdaki kavram haritasında numaralanmış kısımların hangisinde yanlışlık yapılmıştır?

- A) I
- B) II
- C) III
- D) IV
- E) V

24. I. Ahmet Hamdi Tanpınar
II. Mehmet Fuad Köprülü
III. Ahmet Kabaklı
IV. Nihat Sami Banarlı
V. Musahipzade Celâl

Numaralanmış sanatçılardan hangisinin "Türk Edebiyatı Tarihi" alanında çalışması yoktur?

- A) I.
- B) II.
- C) III.
- D) IV.
- E) V.

25. ∞ Ağrı Dağı'nın isminin nereden geldiğinin belirlenmesi
- ∞ Balkan devletlerinin kullandığı armaların incelenmesi
- ∞ Osman Gazi'ye ait olduğu iddia edilen bir para üzerinde araştırma yapılması
- ∞ Karlofça Antlaşması'nın şekil ve içerik bakımından incelenmesi

Yukarıdaki açıklamalar ile bilim dalları arasında eşleştirme yapıldığında aşağıdakilerden hangisi dışta kalır?

- A) Diplomatik B) Epigrafi C) Heraldik
D) Onomatoloji E) Nüvizmatik

26.



Orta Asya'da, Türklere ait kurganlarda gerçekleşen kazılar sonucunda bulunan eserler yukarıda gösterilmiştir.

Buna göre;

- I. Türklere, maden işlemeciliğinde ileri düzeydedir.
- II. Türklerin gündelik hayatında hayvanlar önemli bir yer tutmaktadır.
- III. İpek Yolu, madencilik alanındaki gelişmeleri etkilemiştir.

yargılarından hangilerine ulaşılabilir?

- A) Yalnız I B) Yalnız II C) I ve II
D) I ve III E) I, II ve III

27. Emeviler öncesi İslam uygarlığı ile ilgili sunum yapan Yusuf'un, aşağıdakilerden hangisini söylemesi doğru olmaz?

- A) Kur'an-ı Kerim çoğaltılarak önemli merkezlere gönderilmiştir.
- B) Halifeler, istişare edilerek seçim usulüyle belirlenmiştir.
- C) Müslümanlar arasında siyasi sorunlar yüzünden ilk ayrılıklar yaşanmıştır.
- D) Divan'ül harac ve divan'ül hatem kurumları oluşturulmuştur.
- E) İslamiyet, Mısır ve İran coğrafyasında yayılmaya başlamıştır.

28. Türkler, İslamiyet'e geçtikten sonra Kadirilik, Kübrevilik, Mevlevilik ve Yesevilik gibi tarikatlar kurmuşlardır.

Bu tarikatların kurulmasının aşağıdakilerden hangisine ortam hazırladığı savunulabilir?

- A) Arap kültürünün, Türkler arasında daha fazla yayılmasına
- B) Türklerin savaşçı özelliklerini kaybetmesine
- C) İslamiyetin yanlış yorumlanması ve uygulanmasına
- D) İslam dünyasında bilimsel gelişmelerin durma noktasına gelmesine
- E) Türklerin İslamiyet'i kendi kültürleriyle kaynaştırmasına

29. Kanuni Sultan Süleyman Dönemi'nde Fransa'ya kapitülasyon verilmesinde;

- I. Avrupa'daki gelişmeler sonucunda önemi azalan Akdeniz ticaretini canlandırmak,
- II. toplumun temel tüketim malları konusundaki ihtiyacına cevap verebilmek,
- III. Avrupalı devletlerin çeşitli gerekçelerle Osmanlı işlerine karışmasını engellemek

durumlarından hangilerinin etkili olduğu söylenebilir?

- A) Yalnız I B) Yalnız II C) I ve II
D) I ve III E) I, II ve III

30.

XVI. Yüzyılda Osmanlı Devleti'nde Anadolu'da İşletilen Vakıflar	
Vakıf Türü	Adedi
İmaret	45
Cami ve Mescit	1.397
Medrese	110
Zaviye ve Tekke	626
Muallimhane	154
Kalenderhane	1

Tablodaki veriler ile aşağıdaki bilgilerden hangisi arasında bir çelişki olduğu söylenebilir?

- A) Halkın dini ihtiyaçlarını gidermek, vakıfların en önemli görevidir.
- B) Sosyal adaletin sağlanmasında vakıfların önemli bir yeri vardır.
- C) Vakıflar, ülke içerisinde eğitim faaliyetlerinin yürütülmesinde etkilidir.
- D) Tarikatların ihtiyaçlarının giderilmesi vakıflar aracılığı ile gerçekleşmektedir.
- E) Vakıflar, ticari kaygı amacı taşıyan, kişiye ait kurumlardır.

31. 1856 tarihli Paris Antlaşması ile 1878 tarihli Berlin Antlaşması'nın ortak özellikleri ile ilgili aşağıdakilerden hangisi söylenebilir?

- A) Osmanlı Devleti'nin toprak kazanımı ile sonuçlanmaları
- B) Rusya ile gerçekleşen savaşlardan sonra imzalanmaları
- C) Kaybedilen savaşlardan sonra imzalanmaları
- D) Almanya'nın istekleri doğrultusunda hazırlanmaları
- E) Abdülmecit Dönemi'nde imzalanmış olmaları

32. Telgrafçı Manastırlı Hamdi Bey Mustafa Kemal'e hitaben gönderdiği telgrafta "Bu sabah Şehzadebaşı'ndaki Mızıkı Karakolu'nu İngilizler bastı. Oradaki askerlerle çarpışarak neticede şimdi İstanbul'u işgal altına alıyorlar. Bilgi için arz olunur." demiştir.

Telgrafçı Manastırlı Hamdi Bey'in telgrafında söz ettiği durumun ortaya çıkmasında;

- I. Misakımillî'nin ilan edilmesi,
- II. TBMM'nin açılması,
- III. Amasya Görüşmeleri

gelişmelerinden hangilerinin etkili olduğu söylenemez?

- A) Yalnız I B) Yalnız II C) Yalnız III
D) I ve II E) II ve III

33. Aşağıdakilerden hangisi Atatürk Dönemi'nde nüfus politikası çerçevesinde atılan adımlar arasında gösterilemez?

- A) Birçok şehirde doğumevlerinin kurulması
- B) Kadınların iş hayatında daha fazla yer almasının sağlanması
- C) Ülkeye göçen ailelere gümrük muafiyeti getirilmesi
- D) Altı ya da daha fazla çocuklu ailelere vergi muafiyeti getirilmesi
- E) Çok çocuklu ailelerin yol vergisinden muaf tutulması

34. Bir ülkede devlet işlerinin rüşvet ve iltimasla yürütülmesi, kişilerin hakkaniyet ilkesine riayet etmemesi;

- I. liberalizm,
- II. devletçilik,
- III. halkçılık

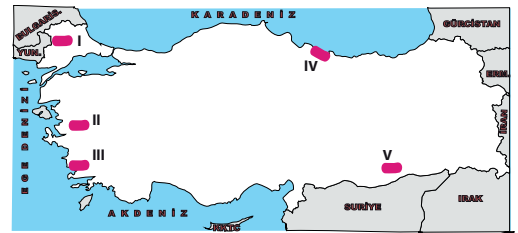
ilkelerinden hangilerinin kesinlikle uygulanmadığının göstergesidir?

- A) Yalnız I
- B) Yalnız III
- C) I ve II
- D) I ve III
- E) I, II ve III

35. Aşağıdakilerden hangisi Türkiye'nin yeni ulaşım projeleri arasında yer alan ve yakın zaman öncesinde hizmete açılan ulaşım ağlarından biridir?

- A) İzmit Körfezi Osmangazi Köprüsü
- B) Çanakkale Boğaz Köprüsü
- C) Kanal İstanbul
- D) Ankara – Antalya yüksek hızlı tren demir yolu
- E) Ankara – Trabzon yüksek hızlı tren demir yolu

36.



Yukarıdaki haritada koyu renkle gösterilen numaralanmış yörelerin hangisinde yoğun olarak yetiştirilen tarım ürünü aşağıda yanlış verilmiştir?

- A) I-Pirinç
- B) II-Tütün
- C) III-İncir
- D) IV-Fındık
- E) V-Zeytin

37. Dünyadaki bazı ülkeler nüfus artış hızlarının çok azalması ve hatta bazılarında nüfusun azalmaya başlaması nedeniyle gelecekte büyük sıkıntılar yaşanabileceğini öngörmektedir. Bu ülkeler nüfus artış hızlarını artırmak için çeşitli nüfus politikaları uygulamaktadır.

Buna göre aşağıda verilen özelliklerden hangisi söz konusu ülkelere ait olamaz?

- A) Yaşlı nüfus oranı fazladır.
- B) Ortanca yaş düşüktür.
- C) Genç bağımlı nüfus oranı azdır.
- D) Nüfus piramidinin tabanı dardır.
- E) Üçüncül ekonomik faaliyetlerde çalışanların oranı yüksektir.

38. Aşağıdakilerden hangisi ekosistemlerin sürdürülebilirliğine daha az katkı sağlar?

- A) Tahrip olmuş orman arazilerinin ıslah edilmesi
- B) Ormanlardaki istilacı böcek türleriyle mücadele edilmesi
- C) Endüstriyel atıkların arıtılarak su ekosistemine boşaltılması
- D) Kültür bitkilerindeki verimin artırılması için biyo-teknolojik çalışmaların yapılması
- E) Kent yerleşmelerinin tarım arazilerinin aleyhine yatay olarak genişlemesinin önüne geçilmesi

39. Aşağıda Türkiye ile aralarında petrol ve doğal gaz taşımacılığı için boru hattı bulunan ülkeler ve bu ülkelerle Türkiye arasında taşınan enerji kaynakları eşleştirilmiş ancak bir yanlışlık yapılmıştır.

Bu eşleştirmelerden hangisinde yanlışlık yapılmıştır?

- A) Azerbaycan - Gürcistan - Türkiye: BTC boru hattı petrol taşımacılığı
- B) Rusya - Türkiye: Mavi Akım boru hattı doğal gaz taşımacılığı
- C) Kazakistan - Türkiye: Şahdeniz boru hattı doğal gaz taşımacılığı
- D) Irak - Türkiye: Kerkük - Yumurtalık boru hattı petrol taşımacılığı
- E) Rusya - Türkiye: Batı Akım boru hattı doğal gaz taşımacılığı

40. Aşağıdakilerden hangisinin Türkiye ekonomisine olan katkısı diğerlerinden daha azdır?

- A) İstanbul, İzmir ve Mersin'deki limanlar
- B) Karadeniz kıyılarındaki balıkçılık faaliyetleri
- C) Çukurova ve GAP bölgesindeki tarımsal üretim
- D) İzmir, Batman ve Kırıkkale'deki petrol işleme tesisleri
- E) Bursa, Kocaeli ve Adapazarı yörelerindeki otomotiv sektörü

1. Bu testte sırasıyla, Tarih-2 (1-11), Coğrafya-2 (12-22), Felsefe Grubu (23-34), Din Kültürü ve Ahlak Bilgisi (35-40) alanlarına ait toplam 40 soru vardır.
2. Cevaplarınızı, cevap kâğıdının Sosyal Bilimler-2 Testi için ayrılan kısmına işaretleyiniz.

1. ∞ Bumin Kağan tarafından kurulmuştur.
∞ En parlak devirlerini Mukan Kağan zamanında yaşamışlardır.
∞ İpek Yolu hâkimiyeti için Bizans ile işbirliği yapmışlardır.

Yukarıda özellikleri verilen Türk devleti hangi seçenekte doğru verilmiştir?

- A) Avarlar
B) Asya Hun Devleti
C) Uygurlar
D) I. Köktürk Devleti
E) II. Köktürk Devleti

2. Ekonomik olduğu kadar sosyal yönleri ile de çok büyük öneme sahipti. İnsanların her türlü ihtiyacı düşünülerek inşa edilir ve yolcular hayvanlarıyla birlikte üç gün ücretsiz kalabilirdi. Fakir ve kimsesizlere her türlü yardım yapılırdı. Bu yapılar kale gibi sağlam duvarları ve demir kapıları ile değerli eşyalar taşıyan kervancılara güvenli bir sığınak görevini de görürdü.

Temel özellikleri verilen bu kurumlar aşağıdakilerden hangisidir?

- A) Külliye
B) İmarethane
C) Darüşşifa
D) Zaviye
E) Kervansaray

3. Konya'da hükümdarın karşısına çıkan bir tüccar; "Ben Antalya yerlilerindenim, kazandığım bütün servetimi bir gemiye yükleyip deniz yolu ile sefere çıktım ve Mısır'a gidip kâr etmek istedim. Ancak sahilden Frenklerin saldırısına uğradık. Saldırı sonunda bizi esir alıp bütün mallarımıza el koydular." demiştir.

Buna göre şikâyetinde bulunan tüccar, hangi devletin hâkimiyeti altında faaliyetlerini sürdürmektedir?

- A) Mengücekler
B) Büyük Selçuklular
C) Türkiye Selçukluları
D) Harzemşahlar
E) Memlukler

4. XVII. yüzyıl, Avrupa'da merkantilizm çağıydı. Ticareti teşvik eden, ihracatı mümkün olabildiğince artıran, değerli madenleri ele geçirmeyi hedefleyen bu modelin ortaya çıkmasında, ----

Yeni Çağ Avrupası ile ilgili yukarıda metnin tarihsel gerçeklere uygun olması için aşağıdakilerden hangisiyle devam ettirilmesi uygun olur?

- A) Coğrafi Keşiflerin önemli bir yeri vardır.
B) Haçlı Seferleri'nin etkisi büyüktür.
C) Akdeniz ticaretinin değer kazanması etkilidir.
D) Reform hareketleri önemli bir yer tutar.
E) Sanayi İnkılabı etkili olmuştur.

5. 10. sınıfta okuyan Cansu, yakın bir zamanda gireceği tarih sınavı için III. Ahmet Dönemi ıslahatlarını maddeler hâlinde deftere yazmıştır.

Cansu'nun yazdığı bu maddeler içinde aşağıdaki kavramlardan hangisine yer vermesi doğru olmaz?

- A) Tulumbacı Ocağı
B) Çiçek Aşısı
C) Sefaretname
D) Matbaa
E) Hendesehane

6.

Olay	Sonuç
I. Reval Görüşmeleri	I. Dünya Savaşı'nın başlaması
II. I. Balkan Savaşı	Batı Trakya'nın kaybedilmesi
III. Trablusgarp Savaşı	Londra Antlaşması'nın imzalanması
IV. 31 Mart Olayı	V. Mehmet Reşat'ın tahta çıkması

Yukarıda verilen olay-sonuç eşleştirmelerinden hangileri yanlıştır?

- A) I ve III
B) II ve IV
C) I ve IV
D) I, II ve III
E) II, III ve IV

7. I. Erzurum Kongresi Kuvayımillîye'yi etkin, millî iradeyi hâkim kılmak esastır.
II. Sivas Kongresi Temsil Heyeti sadece doğu illerini değil tüm yurdu temsil eder.
III. Havza Genelgesi Vatanın bütünlüğü, milletin bağımsızlığı tehlikededir.
IV. Amasya Genelgesi Batı Trakya'da gerekirse halkın oyuna başvurulmalıdır.
V. Misakımillî İşgallerin protesto edilmesi için mitingler düzenlenmelidir.

Millî Mücadele yıllarında yaşanan yukarıdaki gelişmelerle ilgili bilgiler hangilerinde yanlış verilmiştir?

- A) I ve II
B) III ve IV
C) I, III ve V
D) II, III ve IV
E) III, IV ve V

8.

Terakkiperver Cumhuriyet Fırkasının Kurucuları

Kazım Karabekir	?	Bekir Sami Bey
Adnan Bey	Rauf Bey	?

Verilen tabloda boş bırakılan yerlere aşağıdakilerden hangisinin getirilmesi gerekmektedir?

- A) Cafer Tayyar Paşa – Celal Bey
 B) Refet Paşa – Ali Fuat Paşa
 C) Fevzi Paşa – Celal Bey
 D) İsmet Paşa – Fethi Bey
 E) Fethi Bey – Refet Paşa

9. 13 Şubat 1925'te başlayan Şeyh Said İsyanının temel amacı, padişahlık ve hilafet yönetimini yeniden kurmaktı.

Buna göre isyancıların;

- I. laiklik,
 II. milliyetçilik
 III. cumhuriyetçilik

ilkelerinden hangilerine karşı oldukları söylenbilir?

- A) Yalnız I B) Yalnız II C) I ve III
 D) II ve III E) I, II ve III

10. • “Benim davamdır bu, asla şakaya gelmeyeceğimi bilmelisiniz!”
 • “Ben toprak büyütme dileklisi değilim; barış bozma alışkanlığım yoktur ancak antlaşmaya dayanan hakkımızın isteyicisiyim. Onu almam, edemem. Büyük Meclisin kürsüsünden milletime söz verdim.”

Mustafa Kemal Atatürk'ün yukarıdaki sözleri söylemesinde etkili olan ve çözülmesi için çok fazla gayret gösterdiği mesele aşağıdakilerden hangisidir?

- A) Musul Meselesi
 B) Hatay Meselesi
 C) Nüfus Mübadelesi
 D) Borçlar Meselesi
 E) Boğazlar Meselesi

11. XX. yüzyılın başlarından itibaren “propaganda”, bilhassa diktatörler tarafından iktidarda kalmak için kullanılan bir yöntemdi. Toplumların algısını kontrol altında tutmak ve onları yönlendirmek için birçok alanda propaganda faaliyetleri yürütüldü.

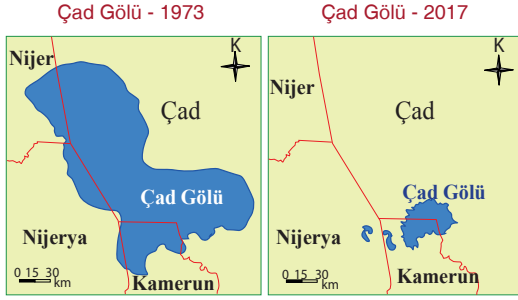
Bu bilgilere göre;

- I. İtalya,
 II. Norveç,
 III. Almanya

devletlerinden hangileri faşist ideolojileri için propaganda faaliyetlerine önem vermiştir?

- A) Yalnız I B) Yalnız II C) I ve III
 D) II ve III E) I, II ve III

12.



Afrika'da bulunan Çad Gölü, bulunduğu bölgede yaşanan kuraklık, sıcaklık artışı ve buharlaşma nedeniyle 1973'ten 2017 yılına kadar alanının yaklaşık %95'ini kaybetmiştir. Göl alanının daralmasında artan nüfus ile birlikte su tüketiminin artması da etkili olmuştur. Tarım alanlarında aşırı su tüketimi ve yanlış sulama yöntemleri bölgedeki en önemli su kaynağının kurumasında etkili olmuştur. Çad Gölü'nün kuruması biyoçeşitlilikte azalmaya, rüzgâr erozyonuna, tarım alanlarının kumlarla kaplanmasına, insanların sosyal ve ekonomik sorunlar yaşamalarına neden olmaktadır.

Buna göre Çad Gölü'nün bulunduğu bölgede ortaya çıkan ya da çıkması olası olan sonuçlarla ilgili olarak aşağıdaki yargılardan hangisine ulaşamaz?

- A) Göl çevresinde çölleşme yaşanmaktadır.
- B) Göl çevresinde beslenme sorunları artmıştır.
- C) Göl çevresinde ortaya çıkan sorunlar göçlere neden olmaktadır.
- D) Gölün kurumasında doğal unsurların hatalı kullanılmasının payı fazladır.
- E) Gölün kuruması tarım alanlarının genişlemesini sağlamıştır.

13.

- I. İşsizlikte artış
- II. Plansız kentleşme
- III. Nüfus yoğunluğunda azalma

Hızlı kentleşme sürecindeki bir kentte sanayileşme hızı kentleşme hızından düşük ise yukarıdaki sonuçlardan hangileri ortaya çıkar?

- A) Yalnız I
- B) Yalnız III
- C) I ve II
- D) I ve III
- E) II ve III

14.

Ulaşım faaliyetleri, özellikle şehirleşme açısından büyük önem taşır. Genellikle bir şehrin önemli bir kısmı cadde ve sokaklardan oluşmaktadır. Özellikle ekonomik gelişmede bölgesel dengesizlik yüzünden belirli bölgelerdeki şehirlerin göçlere bağlı olarak aşırı bir şekilde nüfuslandıkları göze çarpar. Bu durum, şehir alanlarının genişlemesine ve trafik sorunlarının yaşanmasına neden olmaktadır.



Buna göre haritadaki numaralı merkezlerden hangisinde bu sorunların en az olduğu söylenebilir?

- A) I
- B) II
- C) III
- D) IV
- E) V

15. Türkiye’de tarımsal üretim ve üretilen ürünlerin ekonomiye katkısının tarım bölgelerine göre farklılık göstermesinde;

- I. ekili - dikili arazilerin verimliliğinin farklı olması,
- II. tüketici nüfusun bölgelere göre farklılık göstermesi,
- III. yer şekillerinin bölgesel farklılıklar göstermesi

faktörlerinden hangileri etkili olmaktadır?

- A) Yalnız I B) Yalnız III C) I ve II
D) I ve III E) II ve III



Yukarıdaki haritada gösterilen alanlarda kurulu olan enerji santrali aşağıdakilerden hangisidir?

- A) Hidroelektrik
B) Jeotermal
C) Güneş
D) Biyokütle (Çöp çevrim)
E) Termik (Taş kömürü)

17. Türkiye’de ekonomik açıdan yeterince gelişememiş ancak kalkınma potansiyeline sahip bölgeler mevcuttur. Bu bölgelerin gelişmişlik düzeyinin artırılması için GAP (Güneydoğu Anadolu Projesi), DAP (Doğu Anadolu Projesi), KOP (Konya Ovası Projesi), DOKAP (Doğu Karadeniz Projesi), ZBK (Zonguldak, Bartın, Karabük Projesi) ve YHGP (Yeşilirmak Havzası Gelişim Projesi) oluşturulmuştur.

Buna göre aşağıdakilerden hangisi bu projelerin herhangi birinin kapsamında yer alan illerden biri değildir?

- A) Kütahya B) Bayburt
C) Kırıkkale D) Tokat
E) Adıyaman

18. Türkiye, aşağıdaki uluslararası bölgesel ve küresel örgütlerden hangisine üye değildir?

- A) G - 20
B) NATO
C) Dünya Bankası
D) Avrupa Konseyi
E) Körfez İş Birliği Örgütü

19. Aşağıda dört ülke ile ilgili bazı özellikler verilmiştir:
- Enerji kaynakları ile ham madde kaynakları bakımından fakir, ancak ileri teknoloji ve sermayenin fazla olması nedeniyle sanayi gelişmiş, teknoloji ürünleri ve otomotiv ürünleri ihracatı fazladır.
 - Uluslararası alanda tarafsızlığı ile bilinen bu ülkede kış sporları için modern tesisler bulunmaktadır.
 - Dünyadaki ilk uygarlık alanlarından biri bu ülkede yer alır. Kurak iklim koşullarına rağmen akarsuya bağlı sulu tarım yapılan verimli tarım toprakları bulunur.
 - Bulunduğu kıtanın petrol bakımından en zengin, toplam nüfusu en fazla olan ülkesidir.

Bu ülkeler arasında aşağıdakilerden hangisi yoktur?

- A) İngiltere B) Japonya C) Mısır
D) Nijerya E) İsviçre

20. İngiltere'nin sanayileşme sürecinde aşağıdakilerden hangisinin bu sürece olumlu katkısı en azdır?
- A) Zengin kömür ve demir yataklarının
B) Sağlık koşullarının gittikçe iyileşmesinin
C) Siyasi birliğini erken sağlamış olmasının
D) Sömürgelerinden getirilen ham maddelerin
E) Gelişmiş bir deniz ticaret filosunun bulunmasının

21. İnsanlar çeşitli faaliyetler nedeniyle doğadaki madde döngülerini olumsuz şekilde etkilemektedir. İnsan faaliyetlerinden en fazla etkilenen döngülerden biri de karbon döngüsüdür.

Aşağıdakilerden hangisi bu etkilerin sonucunda ortaya çıkan sorunlardan biri değildir?

- A) Hava kirliliğinin artması
B) Asit yağmurlarının artması
C) Ekolojik dengenin bozulması
D) Küresel ısınmanın hızlanması
E) Atmosferdeki sera gazlarının azalması

22. 1970'li yıllara kadar dünyanın dördüncü büyük gölü olan Aral Gölü, yıllar önce içinde her türlü canlıyı barındıran ve balıkçılıktan ulaşıma kadar oldukça önemli bir göl durumundayken bugün büyük ölçüde bataklığa ve çöle dönüştü.

Bu durumun ortaya çıkmasında;

- I. beşerî,
II. iklimik,
III. ülkeler arası siyasi anlaşmazlık

faktörlerinden hangileri etkili olmuştur?

- A) Yalnız I B) Yalnız III C) I ve II
D) II ve III E) I, II ve III

23. Bentham, insanın kendi mutluluğunun birlikte yaşadığı insanların eylemlerinden bağımsız olmadığını ve bu nedenle insanların karşılıklı olarak birbirlerinin iyiliklerini göz önünde tutmaları gerektiğini belirtmektedir. Yani insan kendi iyiliği için herkesin iyiliğini göz önünde tutmalıdır. Buna göre en faydalı, yani etik açıdan doğru eylem, toplumun genel refahını gözeten eylem olacaktır. Çünkü bir insanın eylemi, o insanın olanaklı pek çok eylem tarzları içinde en faydalısını seçtiği ölçüde ahlâksal bir değere sahiptir ve bu fayda, eylemden etkilenenlerin tümü göz önünde bulundurularak belirlenir.

Bu parçada görüşleri verilen ahlaki yaklaşım aşağıdakilerden hangisidir?

- A) Hedonizm
- B) Egoizm
- C) Anarşizm
- D) Ödev ahlakı
- E) Utilitarizm

24. İnsanın kendisinin özgür ve hak öznesi bir birey olduğunu bilmesi, ancak demokratik yaşam biçimi içinde mümkündür. Başkalarının bizim haklarımıza saygılı olabilmesi, öncelikle, bizim o haklara sahip bir birey olduğumuzun bilincine varmamızı gerektirir. Bu bilinçte olmayan kişiler, başkalarının haklarını çiğnemesine, kendilerini hiçe saymasına izin verirler. Bundan zaman zaman şikâyetçi de olurlar. Ama başkalarının saygı göstermesi için öncelikle kendilerinin birey olarak haklarına sahip çıkmaları gerektiğinin farkında değillerdir.

Bu parçada aşağıdakilerden hangisinin önemi vurgulanmıştır?

- A) Temel hak ve özgürlüklerin savunulmasının
- B) Demokrasi bilincinin içselleştirilmesinin
- C) Otorite olgusunun gerekliliğinin
- D) Yöneticilerin bilgili olmasının
- E) Hukuk kurallarının uygulanabilirliğinin

25. Newton'a göre bilim yanılmaz dogmalar içeren bir öğreti değildir; tutarlılık ölçütüne bağlı bir sına-yanılma ve yanılığı ayıklama sürecidir. Akla dayalı eleştiriye kapalı olan hiçbir ilke veya varsayılma bilimde yer yoktur.

Newton bu görüşlerinde bilimin hangi özelliğinden söz etmiştir?

- A) Değişebilir olması
- B) İşbirliğine dayalı elde edilmesi
- C) Nesnel olması
- D) Evrensel olması
- E) Uygulamaya dönük olması

26.



Yukarıdaki şeklin hem saksafon çalan bir bireyi hem de bir bayanın yüzünü algılatması aşağıdakilerden hangisiyle açıklanır?

- A) Algıda şekil zemin ilişkisi
- B) Algıda değişmezlik
- C) Algıda derinlik
- D) Algı alanı
- E) Algı yanılması